

Théorie Galop 3

/30

Les connaissances générales

1/ Indiquez sous les schémas les noms des figures de manège correspondantes :

/2



2/ Entretien du box :

/1

-L'abreuvoir :

- je veille à ce qu'il soit toujours propre
- je laisse les saletés

-La mangeoire :

- doit toujours être vide
- si la ration précédente est dans la mangeoire, j'en rajoute une autre par-dessus
- je mets le granulé au sol

-Le box : reliez l'image correspondant au terme

/1




- paille



- copeau

- granulé de bois



3/ Associer à chaque discipline ses caractéristiques :

/2

- | | |
|--------------------|--|
| - Dressage | - comporte 3 tests dont 1 parcours de CSO, fixe et naturel |
| - saut d'obstacle | - enchainement d'un parcours d'obstacles |
| - concours complet | - présentation de figures et mouvements codifiés |

Connaissances du poney

1/ Le poney à l'état naturel :

Cochez les bonnes réponses

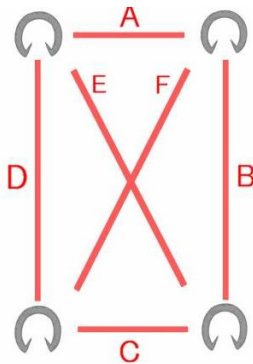
/2

- | | |
|--------------------------|---|
| <input type="checkbox"/> | - les poneys sont solitaires |
| <input type="checkbox"/> | - ils passent 80% à 95% du temps à dormir et manger |
| <input type="checkbox"/> | - ils font des courses |
| <input type="checkbox"/> | - ils vivent en groupe |
| <input type="checkbox"/> | - ils consacrent environ 15h par jour à manger |

2/ Citez les différents bipèdes :

/3

- A :
B :
C :
D :
E :
F :



3/ Mécanisme du pas :

Remettre dans l'ordre les 4 temps du pas

/2

- | | |
|----|-------------------------------|
| 1/ | - poser du postérieur gauche |
| 2/ | - poser du postérieur droit |
| 3/ | - poser de l'antérieur gauche |
| 4/ | - poser de l'antérieur droit |

4/ **Mécanisme du trot:**


Remettre dans l'ordre les 4 temps du trot

/2

- 1/ - diagonal droit
- 2/ - diagonal gauche
- 3/ - projection
- 4/ - projection

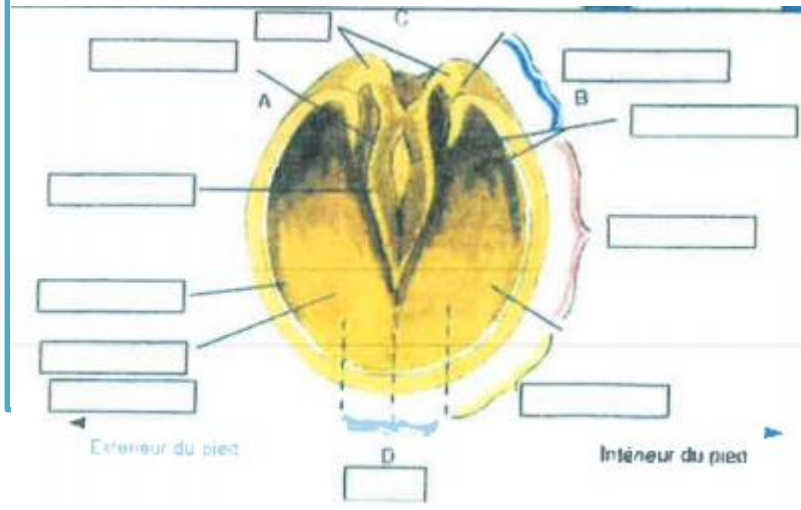
5/ **Compléter les schémas :**

/10



- 1 Queue
- 2 Croupe
- 3 Rein
- 4 Garrot
- 5 Oreilles
- 6 Menton
- 7 Bras
- 8 Jarret
- 9 Dos
- 10 Coude
- 11 Avant-bras
- 12 Genou
- 13 Boulet
- 14 Crinière
- 15 Chanfrein
- 16 Epaule
- 17 Canon
- 18 Chataigne
- 19 Paturon
- 20 Naseau
- 21 Sabot
- 22 Jambe
- 23 Ventre
- 24 Grasset

10



/5

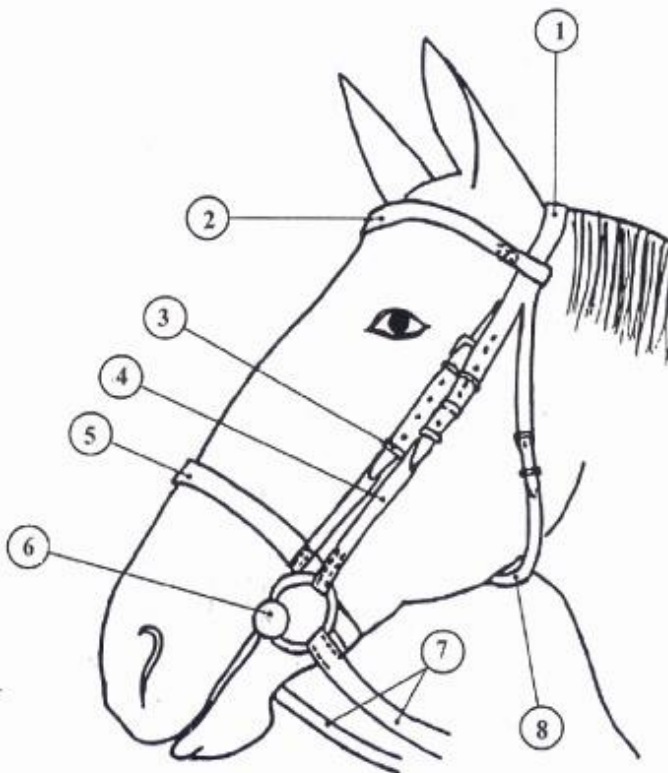
- 1 Lacune latéral
- 2 Lacune médiane
- 3 Ligne blanche
- 4 Mamelle
- 5 Talon
- 6 Sole
- 7 Glômes
- 8 Pince
- 9 Quartier
- 10 Fourchette

S'occuper de son poney

/5

1/ Les différentes parties du filet : mettez à côté de chaque terme le numéro correspondant

- Têtière :
- Mors :
- Sous gorge :
- Muserolle :
- Rênes :
- Montant têtière :
- Frontal :
- Montant du filet :



2/ Ajuster le harnachement : Cochez les bonnes réponses

/5

- | | |
|-------------------------------------|--|
| <input type="checkbox"/> | - réglage du mors avec 2 plis à la commissure des lèvres |
| <input checked="" type="checkbox"/> | - réglage du mors sans pli à la commissure des lèvres |
| <input type="checkbox"/> | - réglage de la muserolle : le plus ajusté possible |
| <input checked="" type="checkbox"/> | - réglage de la muserolle : 2 doigts de l'apophyse zygomatique |
| <input type="checkbox"/> | - réglage de la sous gorge : passer un poing entre la sous gorge et la gorge |
| <input checked="" type="checkbox"/> | - réglage de la sous gorge : collée à la gorge |