



1. A quoi sert la licence fédérale ?

2. Les métiers liés à l'équitation. Cocher les bonnes réponses.

- | | | | |
|-------------------------------------|---|--------------------------------------|------------------------------------|
| <input type="checkbox"/> Médecin | <input type="checkbox"/> Maréchal-Ferrant | <input type="checkbox"/> Coiffeur | <input type="checkbox"/> Sellier |
| <input type="checkbox"/> Enseignant | <input type="checkbox"/> Cordonnier | <input type="checkbox"/> Palefrenier | <input type="checkbox"/> Cuisinier |

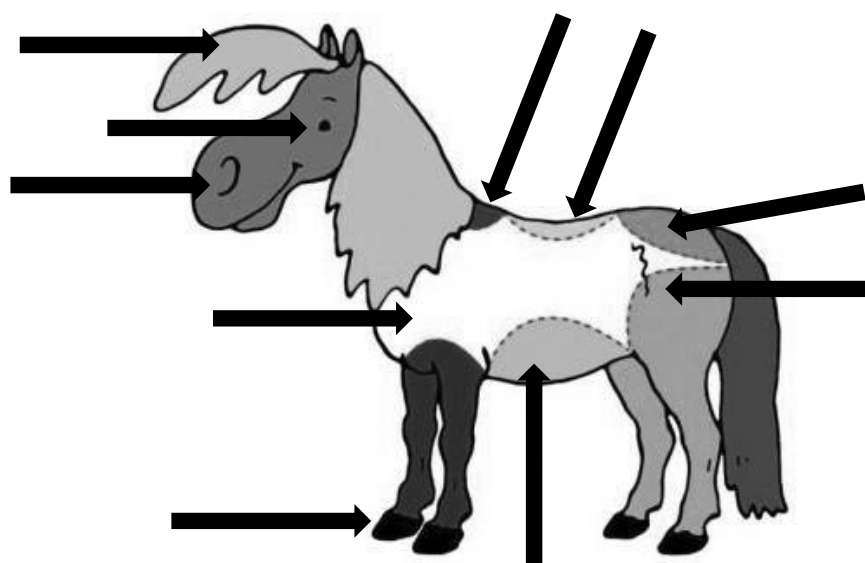
3. Indiquer sous chaque photo si c'est un mâle ou une femelle.









4. Indiquer les parties du poney en face de chaque flèche.



5. Les robes. Ecrivez en dessous de chaque dessin la robe du poney.



6. Comment s'appelle la nourriture du poney ? Citer plusieurs exemples.

7. Dans la nature le poney est...? Cocher la bonne réponse.

Une proie

Un volatile

Un prédateur

Un chasseur

8. Les poney est un animal...? Cocher la bonne réponse.

Omnivore : qui se nourrit d'aliment d'origine végétale ou animale.

Herbivore : qui se nourrit d'herbe et de végétaux.

Carnivore : qui se nourrit de viande

9. Quel matériel est utile pour nettoyer les cuirs ? Cocher les bonnes réponses.

Gel douche

Vinaigre

Shampooing

Alcool

Savon

Eau

Graisse

Eponge

10. Quel terme utilise-t-on pour dire « resserrer » la selle du poney ?

Saucissonner

Sangler

Ficeler

Serrer

11. Noter le numéro correspondant à l'attitude du poney.

Agressif

Inquiet

De mauvaise humeur

Confiant

Somnolent



12. Le pansage. Noter le numéro correspondant à chaque brosse.

Brosse douce


Eponge

Cure pied

Etrille

Bouchon

Peigne



13. Quelles parties du filet doit-on ajuster ? Cocher les bonnes réponses.

La sous gorge

La muserolle

Le frontal

Le pommeau

Le mors

Les montant du filet

La tête

Les rênes

Cadre réservé à l'enseignant